



SERVICES CULTURE ÉDITIONS
RESSOURCES POUR
L'ÉDUCATION NATIONALE

**Ce document a été numérisé par le CRDP de Lille pour la
Base Nationale des Sujets d'Examens de l'enseignement professionnel**

Ce fichier numérique ne peut être reproduit, représenté, adapté ou traduit sans autorisation.

DANS CE CADRE

Académie :	Session :
Examen :	Série :
Spécialité/option :	Repère de l'épreuve :
Épreuve/sous épreuve :	
NOM :	
(en majuscule, suivi s'il y a lieu, du nom d'épouse)	
Prénoms :	N° du candidat <input type="text"/>
Né(e) le :	(le numéro est celui qui figure sur la convocation ou liste d'appel)

NE RIEN ÉCRIRE

Appréciation du correcteur

Note :

Il est interdit aux candidats de signer leur composition ou d'y mettre un signe quelconque pouvant indiquer sa provenance.

Durée : 3 Heures

Brevet d'Études Professionnelles
AMÉNAGEMENT - FINITION
Session 2012

Coefficient : 4

EP1 : Préparation de travaux

DOSSIER REPONSE

EVALUATION			
D.R. 2/8/20	D.R. 7/8/25
D.R. 3/8/20	D.R. 8/8/15
D.R. 4/8/20	TOTAL/140
D.R. 5/8/20		
D.R. 6/8/20		

TOTAL : / 140

BEP AMENAGEMENT - FINITION

Code :

Session 2012

DOSSIER REPONSE

EPREUVE EP1 - PRÉPARATION DE TRAVAUX

Durée : 3H00

Coefficient : 4

D.R. 1 / 8

Il est interdit aux candidats de signer leur composition ou d'y mettre un signe quelconque pouvant indiquer sa provenance.

NE RIEN ÉCRIRE DANS CETTE PARTIE

TRAVAIL DEMANDE	RESSOURCES	EXIGENCES	REPONSES	BAREME
Contexte : L'ETUDE PORTE SUR L'APPARTEMENT T3 BA 01.				
- Rechercher l'orientation de la fenêtre de la cuisine du T3 BA 01	Dossier technique	- réponse exacte	Orientation de la fenêtre : / 03
- Rechercher la hauteur d'allège de la fenêtre de la cuisine T3 BA 01 :		- réponse exacte - unité exacte.	Hauteur d'allège de la fenêtre : / 03
- Calculer la largeur du séjour :		- réponse exacte	Largeur du séjour : / 03
- Calculer la largeur de la chambre 2 :		- unité exacte.	Largeur de la chambre 2 : / 03
- Indiquer la signification de ces 3 lettres : V.M.C		- réponse exacte	V : M : C : / 06
- Donner la signification du symbole suivant : 		- réponse exacte	Ce symbole signifie : / 02

BEP AMENAGEMENT - FINITION	Code :	Session 2012	DOSSIER REPONSE
EPREUVE EP1 - PRÉPARATION DE TRAVAUX	Durée : 3H00	Coefficient : 4	D.R. 2 / 8

Il est interdit aux candidats de signer leur composition ou d'y mettre un signe quelconque pouvant indiquer sa provenance.


NE RIEN ÉCRIRE DANS CETTE PARTIE

TRAVAIL DEMANDE	RESSOURCES	EXIGENCES	REPONSES	BAREME
Contexte : L'ETUDE PORTE SUR L'APPARTEMENT T3 BA 01.				
- Rechercher l'épaisseur totale isolant + bardage extérieur :	Dossier technique	- réponse exacte - unité exacte.	Epaisseur totale isolant + bardage extérieur : / 03
- Calculer la surface du sol de la cuisine (ne pas tenir compte des éléments de cuisine) :		- réponse exacte - unité exacte.	Surface du sol de la cuisine : / 04
- Rechercher la Hauteur Sous Plafond du logement :		- réponse exacte - unité exacte.	HSP du logement : / 04
- Rechercher les dimensions de la porte d'entrée de l'appartement :	Dossier technique	- réponse exacte - unité exacte.	Dimensions de la porte d'entrée : / 04
- Expliquer pourquoi la largeur des portes est importante :		- bonne argumentation.	Argumentation : / 05

BEP AMENAGEMENT - FINITION	Code :	Session 2012	DOSSIER REPONSE
EPREUVE EP1 - PRÉPARATION DE TRAVAUX	Durée : 3H00	Coefficient : 4	D.R. 3 / 8

Il est interdit aux candidats de signer leur composition ou d'y mettre un signe quelconque pouvant indiquer sa provenance.

NE RIEN ÉCRIRE DANS CETTE PARTIE

TRAVAIL DEMANDE	RESSOURCES	EXIGENCES	REPONSES	BAREME
Contexte : L'ETUDE PORTE SUR L'APPARTEMENT T3 BA 01.				
- Dessiner la vue intérieure HH du séjour à l'échelle 1/20 ^{ème} :	Dossier technique	- échelle respectée	 / 10
- Effectuer la cotation de ce dessin :		- représentation et cotations exactes	 / 5
				Vue HH.

BEP AMENAGEMENT - FINITION	Code :	Session 2012	DOSSIER REPONSE
EPREUVE EP1 - PRÉPARATION DE TRAVAUX	Durée : 3H00	Coefficient : 4	D.R. 4 / 8

Il est interdit aux candidats de signer leur composition ou d'y mettre un signe quelconque pouvant indiquer sa provenance.






NE RIEN ÉCRIRE DANS CETTE PARTIE

TRAVAIL DEMANDE	RESSOURCES	EXIGENCES	REPONSES	BAREME
Contexte : L'ETUDE PORTE SUR L'APPARTEMENT T3 BA 01.				
- Citer la composition des cloisons de distribution dans l'appartement T3 BA 01 :	Dossier technique	- réponse exacte / 8
- Indiquer la teneur maximale en C.O.V du produit IDROTOP VELOURS :	Ressource spécifique	- réponse exacte - unité exacte / 3
- Expliquer la signification de ces 3 lettres : C.O.V.		- réponse exacte / 6
- Citer le solvant du produit : IDROTOP VELOURS		- réponse exacte / 3

BEP AMENAGEMENT - FINITION	Code :	Session 2012	DOSSIER REPONSE
EPREUVE EP1 - PRÉPARATION DE TRAVAUX	Durée : 3H00	Coefficient : 4	D.R. 5 / 8

Il est interdit aux candidats de signer leur composition ou d'y mettre un signe quelconque pouvant indiquer sa provenance.

NE RIEN ÉCRIRE DANS CETTE PARTIE

TRAVAIL DEMANDE	RESSOURCES	EXIGENCES	REPOSES	BAREME
Contexte : L'ETUDE PORTE SUR L'APPARTEMENT T3 BA 01.				
- Citer les EPI recommandés lors de la manipulation de la peinture : IDROTOP VELOURS :	Ressource spécifique	- 3 réponses exactes / 6
- Sur les fiches techniques des revêtements de sol figurent les symboles suivants. Indiquer la signification de ces symboles :	Ressource spécifique	- réponses exactes	 / 3
			 / 3
			 / 3
			 / 3
			 / 2

BEP AMENAGEMENT - FINITION	Code :	Session 2012	DOSSIER REPONSE
EPREUVE EP1 - PRÉPARATION DE TRAVAUX	Durée : 3H00	Coefficient : 4	D.R. 6 / 8

Il est interdit aux candidats de signer leur composition ou d'y mettre un signe quelconque pouvant indiquer sa provenance.

NE RIEN ÉCRIRE DANS CETTE PARTIE

TRAVAIL DEMANDE	RESSOURCES	EXIGENCES	REponses				BAREME	
Contexte : L'ETUDE PORTE SUR LE SEJOUR DE L'APPARTEMENT T3 BA 01.								
<p>ANALYSE DE TRAVAIL</p> <p>- Rédiger l'analyse de travail du Séjour en sachant que les différents subjectiles sont :</p> <p>* murs et plafond : plaque de plâtre (BA 13), dont les bandes ont été réalisées par le plaquiste.</p> <p>* portes : type isoplane : prépeinte.</p> <p>- Indiquer l'outillage correspondant aux tâches à réaliser :</p>	<p>Dossier technique</p> <p>Ressource spécifique</p>	<p>- Ordre chronologique respecté</p> <p>- Outillage répertorié</p> <p>- Clarté du document</p>	N°	OPERATIONS	RENSEIGNEMENTS TECHNIQUES	OUTILLAGE		
<p>TRAVAUX A REALISER</p> <p>- Portes : peinture</p> <p>- Plafond : peinture</p> <p>- Murs : pose de toile de verre et peinture,</p>						 / 15	
							 / 17
							 / 13

BEP AMENAGEMENT - FINITION	Code :	Session 2012	DOSSIER REPONSE
EPREUVE EP1 - PRÉPARATION DE TRAVAUX	Durée : 3H00	Coefficient : 4	D.R. 7 / 8

Il est interdit aux candidats de signer leur composition ou d'y mettre un signe quelconque pouvant indiquer sa provenance.

NE RIEN ÉCRIRE DANS CETTE PARTIE

TRAVAIL DEMANDE	RESSOURCES	EXIGENCES	REponses				BAREME	
Contexte : L'ETUDE PORTE SUR LE SEJOUR DE L'APPARTEMENT T3 BA 01.								
<p>En vue de la réalisation des travaux de finition, indiquer pour chaque produit :</p> <ul style="list-style-type: none"> - le rendement du produit : - la surface à traiter : (Ne pas oublier de soustraire la surface des portes, de la fenêtre et du passage du séjour / cuisine dont les dimensions sont de : 2,50 m x 1,15 m.) - la quantité de produit (prévoir 2 couches) : - la commande selon le conditionnement : 	<p>Dossier technique</p> <p>Ressource spécifique</p>	<p>- résultats exacts</p>	PRODUITS	RENDEMENT	SURFACE A TRAITER	QUANTITE	COMMANDE SELON LE CONDITIONNEMENT	
			<p>Ex : Portes Normae satin</p>	<p>12 m²/litre</p>	<p>1 porte : 0,93 x 2,25 = 2,09 m² 1 porte : 0,93 x 2,04 = 1,89 m² 3,98 m²</p>	<p>0,33 Litre</p>	<p>1 litre</p>	<p>..... / 3</p> <p>..... / 3</p> <p>..... / 3</p> <p>..... / 3</p> <p>..... / 6</p>
			<p>Plafond Idrotop mat silan</p>	<p>10 m²/litre</p>			<p>1 x 5 litres</p>	
			<p>Colle pour toile de verre Métylan Ovalit V</p>		<p>34,42 m²</p>			
			<p>Peinture pour toile de verre Idrotop Velours</p>		<p>34,42 m²</p>			
<p>Revêtement de sol Marmorette 3.2</p>		<p>21,33 m²</p>						

BEP AMENAGEMENT - FINITION	Code :	Session 2012	DOSSIER REPONSE
EPREUVE EP1 - PRÉPARATION DE TRAVAUX	Durée : 3H00	Coefficient : 4	D.R. 8 / 8